

ФІЗИЧНА ГЕОГРАФІЯ УКРАЇНСЬКИХ КАРПАТ

1. Карпатська гірська країна простяглася велетенською дугою від Братіслави до Залізних Воріт на:
А 110 км;
Б 280 км;
В 1200 км;
Г 1500 км.
2. Частину Карпатської гірської країни, яка простяглася від Братіслави до річки Попрад називають:
А Південними Карпатами;
Б Східними Карпатами;
В Західними Карпатами;
Г Сербськими Карпатами.
3. Частину Карпатської гірської країни, яка простяглася від річки Попрад до річки Прагова, називають:
А Південними Карпатами;
Б Східними Карпатами;
В Західними Карпатами;
Г Сербськими Карпатами.
4. Частину Карпатської гірської країни, яка лежить на захід від Трансільванського плато, називають:
А Південними Карпатами;
Б Західними Румунськими горами;
В Західними Карпатами;
Г Сербськими Карпатами.
5. Найвища вершина Карпатської гірської країни знаходиться у:
А Південних Карпатах;
Б Східних Карпатах;
В Західних Карпатах;
Г Сербських Карпатах.
6. Найвища вершина Карпатської гірської країни знаходиться у масиві:
А Ретезат;
Б Фегераш;
В Татри;
Г Родна.
7. Українські Карпати є частиною:
А Південних Карпат;
Б Східних Карпат;
В Трансільванського плато;
Г Західних Карпат.
8. Найвища вершина Східних Карпат знаходиться у масиві:
А Ретезат;
Б Фегераш;
В Татри;
Г Родна (Роднянські Альпи).
9. З північного заходу на південний схід більш як на 270 км при ширині близько 100 км простяглися:
А Українські Карпати;
Б Східні Карпати;
В Бещади;
Г Молдово-Семиградські Карпати.
10. Найвища вершина Карпатської гірської країни:
А Говерла;
Б Герлаховський штит;

- В** П'єтрос;
Г Молдов'яну.
- 11.** Найвища вершина Карпат у Польщі:
А Баб'я;
Б Кукурбета;
В Тарниця;
Г Риси.
- 12.** Найвища вершина Східних Карпат:
А Говерла;
Б Феркеу;
В П'єтрос;
Г Молдов'яну.
- 13.** Найвища вершина Південних Карпат:
А Бельяніца;
Б Кукурбета;
В Тарниця;
Г Молдов'яну.
- 14.** Найвища вершина Сербських Карпат:
А Бельяніца;
Б Кукурбета;
В Тарниця;
Г Пеляга.
- 15.** Найбільше високогірних масивів з висотами понад 2500 знаходиться у:
А Південних Карпатах;
Б Східних Карпатах;
В Західних Карпатах;
Г Сербських Карпатах.
- 16.** Висоти вершин не перевищують 1500 тільки у межах Трансільванського плато та:
А Південних Карпат;
Б Східних Карпат;
В Західних Румунських гір;
Г Сербських Карпат.
- 17.** У тектонічному відношенні Карпатська гірська країна є частиною:
А складчастих споруд герцинської складчастості;
Б Балтійського кристалічного щита;
В альпійських споруд Європейського Середземномор'я;
Г складчастих споруд каледонської складчастості.
- 18.** У тектонічному відношенні Карпатська гірська країна поділяється на дві відмінні у своєму геологічному розвитку частини:
А Внутрішні (Флішеві) і Зовнішні Карпати;
Б Внутрішні (Полонининські) і Скибові Карпати;
В Внутрішні і Зовнішні (Флішеві) Карпати;
Г Внутрішні і Зовнішні (Вулканічні) Карпати.
- 19.** У межах Українських Карпат до тектонічних зон Зовнішніх (Флішевих) Карпат не належить:
А Скибова зона Карпат;
Б Кросненська зона Карпат;
В зона Полонинсько-Чорногірських покривів;
Г зона Пенінських стрімчаків.
- 20.** У межах Українських Карпат до тектонічних зон Внутрішніх Карпат не належить:
А Мармароський масив;
Б Внутрішня зона Передкарпатського крайового прогину;
В зона Мармароських стрімчаків;
Г зона Пенінських стрімчаків.

21. Зовнішній край Українських Карпат прилягає до Західноєвропейської та Східноєвропейської платформ:
- А Скибовою зоною Карпат;
 - Б Зовнішньою зоною Передкарпатського крайового прогину;
 - В Внутрішньою зоною Передкарпатського крайового прогину;
 - Г зоною Пенінських стрімчаків.
22. Тектонічний розлом, який розділяє Внутрішні і Зовнішні (Флішеві) Карпати простягається вздовж:
- А зони Пенінських стрімчаків;
 - Б Зовнішньою зоною Передкарпатського крайового прогину;
 - В Кросненської зони Карпат;
 - Г Скибової зони Карпат.
23. Центральною синклінальною у межах Українських Карпат є зона:
- А Скибова;
 - Б Дуклянська;
 - В Кросненська;
 - Г Магурська.
24. До Внутрішніх антиклінальних флішевих покривів Українських Карпат не належить:
- А Скибовий;
 - Б Дуклянський;
 - В Поркулецький;
 - Г Магурський.
25. Тектонічна структура складена комплексом метаморфічних утворень протерозойсько-ранньопалеозойського віку:
- А зона Пенінських стрімчаків;
 - Б Мармароський масив;
 - В Кросненська зона Карпат;
 - Г Чоп-Мукачівська западина.
26. Ефузивний неогеновий вулканізм проявився у межах:
- А зона Пенінських стрімчаків;
 - Б Мармароський масив;
 - В Кросненська зона Карпат;
 - Г Чоп-Мукачівська западина.
27. Флішеві товщі Зовнішніх Карпат за віком здебільшого:
- А тріасові та юрські;
 - Б юрські та крейдові;
 - В крейдові та палеогенові;
 - Г палеогенові та неогенові.
28. Моласові товщі неогенового віку залягають в основному у межах
- А Мармароського масиву;
 - Б Скибової зони Карпат;
 - В Дуклянської зони Карпат;
 - Г крайових прогинів.
29. На основі багаторічних досліджень у межах Українських Карпат прийнято виділяти великих морфоструктур – геоморфологічних областей:
- А 4;
 - Б 6;
 - В 7;
 - Г 12.
30. У межах Передкарпатської передгірної височини, Зовнішньфлішевих Карпат, Вододільно-Верховинських та Полонинсько-Чорногірськи Карпат за відмінностями у рельєфі виділяють геоморфологічні підобласті по:
- А 2;
 - Б 3;

В 4;

Г 5.

31. В основі Передкарпатської передгірної височини лежить:
- А Скибова зона Карпат;
 - Б крайовий прогин;
 - В Кросненська зона Карпат;
 - Г зона Полонинсько-Чорногірських покривів.
32. До хребтів Карпат приляє зона Передкарпатського крайового прогину:
- А Зовнішня;
 - Б Внутрішня (Бориславсько-Покутська);
 - В Більче-Волицька;
 - Г епіплатформа.
33. У межах Передкарпатської передгірної височини *не* виділяють підобласті:
- А Приподільського Передкарпаття;
 - Б Прибескидського Передкарпаття;
 - В Пригорганського Передкарпаття;
 - Г Покутсько-Буковинського Передкарпаття.
34. Вершина гори Клива є найвищою точкою:
- А Покутсько-Буковинського Передкарпаття;
 - Б Прибескидського Передкарпаття;
 - В тільки Пригорганського Передкарпаття;
 - Г усієї Передкарпатської передгірної височини.
35. Вершини з висотами понад 600 м є у межах:
- А Покутсько-Буковинського Передкарпаття;
 - Б Прибескидського Передкарпаття;
 - В тільки Пригорганського Передкарпаття;
 - Г усіх трьох підобластей Передкарпатської передгірної височини.
36. Гора Клива (869 м) знаходиться у межах:
- А Радицької височини;
 - Б Майданського горбогір'я;
 - В Слобода-Рунгурського горбогір'я;
 - Г Гвіздськського горбогір'я.
37. Велика складчаста область антиклінального типу, в основі якої залягає Скибова тектонічна зона, та частина Бориславсько-Покутської зони крайового прогину:
- А Зовнішньофлішеві Карпати;
 - Б Українські Східні Бескиди;
 - В Скибові Горгани;
 - Г Вододільно-Верховинські Карпати.
38. До Зовнішньофлішевих Карпат належать підобласті:
- А Свидовецько-Чорногірська;
 - Б Сянсько-Ріцька верховина;
 - В Українські Східні Бескиди;
 - Г Привододільні Горгани.
39. До Зовнішньофлішевих Карпат належать підобласті:
- А Гринявко-Яловичорські Карпати;
 - Б Бистрице-Селятинського низькогір'я;
 - В Полонинське пасмо;
 - Г Скибові Горгани.
40. До Зовнішньофлішевих Карпат *не* належить підобласть:
- А Покутсько-Буковинські Карпати;
 - Б Солотвинське низькогір'я;
 - В Українські Східні Бескиди;
 - Г Скибові Горгани.

41. Загальною особливістю рельєфу є переважання відносно невисоких хребтів (800–1200 м над рівнем моря), поширення скель-останців, які здебільшого утворені масивними ямненськими пісковиками (скелі Бубнища, Ямельниці, Тишівниці, Кам'янки, гори Ключ):
А Покутсько-Буковинські Карпати;
Б Сянсько-Ріцька верхovina;
В Українські Східні Besкиди;
Г Скибові Горгани.
42. Гора Сивуля Велика — найвища вершина:
А Вододільно-Верховинських Карпат;
Б Зовнішньофлішевих Карпат;
В Полонинсько-Чорногірських Карпат;
Г Закрпатського низькогір'я.
43. Гора Сивуля Велика знаходиться у геоморфологічній підобласті:
А Покутсько-Буковинські Карпати;
Б Привододільні Горгани;
В Українські Східні Besкиди;
Г Скибові Горгани.
44. Межу між Українськими Східними Besкидами та Скибовими Горганами проводять по річці:
А Опір;
Б Лужанка;
В Мізунка;
Г Лімниця.
45. Основною характерною ознакою середньовисотних вершин є наявність суцільних кам'яних розсипів пісковиків, здебільшого світлосірого колорю, які виходять на поверхню у привершинній частині хребтів і масивів, але інколи спускаються у вигляді язиків до долин гірських потоків у геоморфологічній підобласті:
А Покутсько-Буковинські Карпати;
Б Рахівських гір;
В Українські Східні Besкиди;
Г Скибові Горгани.
46. Скибова зона лежить тільки в основі найвищих хребтів підобласті:
А Покутсько-Буковинські Карпати;
Б Чивчинських гір;
В Українські Східні Besкиди;
Г Скибові Горгани.
47. Висоти вершин зазвичай сягають 800–1200 м, досить поширені скельні останці (Протяті камені, Писаний Камінь, скелі Кінашки, скелі Соکیلського, Терношори):
А Покутсько-Буковинські Карпати;
Б Сянсько-Ріцька верхovina;
В Українські Східні Besкиди;
Г Скибові Горгани.
48. Найвища точка усіх Покутсько-Буковинських Карпат – гора:
А Магура;
Б Муралевиця;
В Писаний Камінь;
Г Лунгул.
49. Карпатський головний вододіл, що розділяє Карпати на два макросхили, проходить у:
А Вододільно-Верховинських Карпатах;
Б Покутсько-Буковинських Карпатах;
В Українських Східних Besкидах;
Г Чивчинських горах.
50. В основі Вододільно-Веховинських Карпат лежить тектонічна зона:
А Скибова;
Б Дуклянська;

В Кросненська;

Г Магурська.

51. Найвищою точкою усієї гірської області Вододільно-Веховинських Карпат є гора:

А Гропа;

Б Стримба;

В Негровець;

Г Братківська.

52. Північно-західну частину Вододільно-Веховинських Карпат займає підобласть:

А Покутсько-Буковинські Карпати;

Б Сянсько-Ріцька верховина;

В Привододільні Горгани;

Г Бистрице-Селятинського низькогір'я.

53. Гора Братківська з абсолютною висотою 1788 м та ще ціла група вершин з висотами понад 1700 м знаходяться у межах підобласті:

А Східних Бескидів;

Б Сянсько-Ріцька верховина;

В Привододільні Горгани;

Г Бистрице-Селятинського низькогір'я.

54. Гора Довга з абсолютною висотою 1371 м та ще декілька вершин з висотами понад 1200 м знаходяться у межах підобласті:

А Скибові Горгани;

Б Сянсько-Ріцька верховина;

В Привододільні Горгани;

Г Бистрице-Селятинського низькогір'я.

55. Морфоструктурно являють собою горст-антикліноні хребти, які відповідають Внутрішній антиклінальній тектонічній зоні Флішевих Карпат. Складені вони потужною товщею декількох покривів крейдового і палеогенового флішу з переважанням щільних пісковиків:

А Покутсько-Буковинські Карпати;

Б Полонинсько-Чорногірські Карпати;

В Українські Східні Бескиди;

Г Вулканічно-Верхньотисенські Карпати.

56. У межі природно-географічної області Полонинсько-Чорногірських Карпат не входить підобласть:

А Полонинського пасма;

Б Свидовецько-Чорногірська;

В Чивчинських гір;

Г Гринявсько-Яловичорська.

57. Вкажіть полонину, яка не входить до підобласті Полонинського пасма:

А Полонина Рівна;

Б Полонина Яровиця;

В Полонина Красна;

Г Полонина Боржава.

58. Найвищий масив Українських Карпат:

А Свидовець;

Б Чорногора;

В Боржава;

Г Чивчинські гори.

59. Гора Близниця Велика – найвища вершина масиву Українських Карпат:

А Свидовець;

Б Чорногора;

В Скибові Горгани;

Г Чивчинські гори.

60. Гора Гутин Томнатик (2016 м) знаходиться у масиві Українських Карпат:

А Свидовець;

- Б Черногора;
В Рахівські гори;
Г Чивчинські гори.
61. Масиви Свидовця і Черногори розділяє річка:
А Тересва;
Б Чорна Тиса;
В Кісва;
Г Біла Тиса.
62. Масиви Свидовця і Черногори розділяє річка:
А Тересва;
Б Чорна Тиса;
В Кісва;
Г Біла Тиса.
63. У межах природно-географічної області Полонинсько-Черногірських Карпат льодовикові кари, трогові долини сформувалися у підобласті:
А Полонинського пасма;
Б Свидовецько-Черногірській;
В Чивчинських гір;
Г Гринявсько-Яловичорській.
64. Найвища точка Чернівецької області – гора Яровиця (1574 м) знаходиться у підобласті:
А Полонинського пасма;
Б Свидовецько-Черногірській;
В Чивчинських гір;
Г Гринявсько-Яловичорській.
65. У геологічному відношенні це склепінчато-брилова герцинська за віком споруда, яка утворена дуже давніми метаморфічними породами докембрію і палеозою, що перекриті осадовими відкладами мезозою та палеогену:
А Вигорлат-Гутинське низькогір'я;
Б Бистрице-Селятинське низькогір'я;
В Гринявсько-Яловичорські Карпати;
Г Мармароський кристалічний масив.
66. Гора Піп Іван Мармароський – 1938 м знаходиться у масиві Українських Карпат:
А Свидовець;
Б Черногора;
В Рахівські гори;
Г Чивчинські гори.
67. Гора Гнатася знаходиться у масиві Українських Карпат:
А Свидовець;
Б Черногора;
В Скибові Горгани;
Г Чивчинські гори.
68. Область Закарпатського низькогір'я течією річки Ріка нижче села Липча розділяється на підобласті Вуканічних Карпат (Вигорлат-Гутинського низькогір'я) та:
А Березне-Липчанської міжгірної долини;
Б Закарпатської рівнини;
В Солотвинського низькогір'я;
Г Березівського вулканічного горбогір'я.
69. Вершина Бужора – 1086 м – найвища точка усього Вигорлат-Гутинського хребта знаходиться у масиві:
А Вигорлат;
Б Маковиця;
В Тупий;
Г Великий Діл.

70. Найвища точка Закарпатської рівнини має висоту 368 м:
А Шаланський Гельмець;
Б Юлівська гора;
В Велика Березівська;
Г Чорна гора.
71. Абсолютні висоти міжгірних улоговин Українських Карпат коливаються зазвичай у межах:
А 100–200 м;
Б 500–800 м;
В 1000–1200 м;
Г 1200–1300 м.
72. Абсолютні висоти Закарпатської рівнини коливаються зазвичай у межах:
А 100–120 м;
Б 200–300 м;
В 250–350 м;
Г 400–500 м.
73. Найбільша середньорічна величина сонячної радіації (понад 4000 МДж/м²) серед природних областей Українських Карпат характерна для:
А Полонинсько-Чорногірських Карпат;
Б Передкарпаття;
В Вулканічного Закарпаття;
Г Низовинного Закарпаття.
74. Найбільша середньорічна величина величина радіаційного балансу (понад 1700 МДж/м²) серед природних областей Українських Карпат характерна для:
А північно-західного Передкарпаття;
Б центральної частини Передкарпаття;
В південно-західного Закарпаття;
Г південно-східного Закарпаття.
75. У теплий період року Українських Карпати захоплює відріг:
А Азорського максимуму;
Б Азіатського антициклону;
В Арктичного антициклону;
Г Афганського мінімуму.
76. У теплий період року Українських Карпати захоплює відріг:
А Азорського максимуму;
Б Азіатського антициклону;
В Арктичного антициклону;
Г Афганського мінімуму.
77. Найвисокогірнішою в Українських Карпати є сніголавинна метеорологічна станція:
А Плай;
Б Яремче;
В Рахів;
Г Пожижевська.
78. Середня температура січня становить -2°C у:
А середньогір'ї Карпат;
Б Передкарпатті;
В високогір'ї Карпат;
Г Закарпатті.
79. Середня температура липня становить $+18\dots+19^{\circ}\text{C}$ у:
А середньогір'ї Карпат;
Б Передкарпатті;
В високогір'ї Карпат;
Г Закарпатті.
80. Середня температура січня становить на найвищих вершинах Чорногори та Свидовця становлять близько:
А -3° ;
Б -5° ;

В – 8°;

Г – 12°.

81. Середня температура липня у поясі Карпатських гір до висоти 1500 м знижується до:
А +20°;
Б +18°;
В +10°;
Г + 2°.
82. Середньорічна кількість опадів становить до 1500 мм і більше у:
А середньогір'ї Карпат;
Б Передкарпатті;
В високогір'ї Карпат;
Г Закарпатті.
83. У замкнених котловинах часто застоюється важке холодне повітря і температура може бути на 10° нижча, ніж у навколишніх горах і вищих шарах. Це явище називається:
А інверсією температур;
Б амплітудою температур;
В парадоксом температур;
Г градієнтом температур.
84. Річки північно-східного макросхилу Українських Карпат **не** належать до систем:
А Вісли;
Б Дністра;
В Західного Бугу;
Г Дунаю.
85. Річки південно-західного макросхилу Українських Карпат теж несуть свої води в Дунай через систему його найбільшої притоки:
А Тиси;
Б Прута;
В Сірету;
Г Бистриці.
86. В північно-західній частині Українських Карпат невелика кількість водних потоків належить до системи річки Сян — притоки:
А Дністра;
Б Тиси;
В Вісли;
Г Західного Бугу.
87. У цілому річки басейну Тиси, праві притоки Дністра, витоки Прута і Сірету відносять до річок за типом живлення:
А змішаного з переважаанням підземного;
Б змішаного з переважаанням дощового;
В змішаного з переважаанням снігового;
Г виключно дощового.
88. Річка Сян, яка має загальну довжину 447 км, бере початок поблизу перевалу:
А Торунського;
Б Латірського;
В Верецького;
Г Ужоцького.
89. Найбільшою правою притокою Дністра є:
А Свіча;
Б Стрий;
В Бистриця;
Г Лімниця.
90. Водоспади Українських Карпат Манявський, Бухтівецький, Черникський належить до система річки:
А Лімниці;
Б Свічі;
В Лукви;

- Г Бистриці.
91. Другу за величиною після Дністра систему північно-східного макросхилу Українських Карпат становить система річки:
А Латориці;
Б Прута;
В Сірету;
Г Бистриці.
92. Найбільшим витоком Черемошу є:
А Пістинька;
Б Білий Черемош;
В Чорний Черемош;
Г Путила.
93. Річка Сірет – ліва притока Дунаю бере початок у межах області:
А Львівської;
Б Івано-Франківської;
В Закарпатської;
Г Чернівецької.
94. Найбільшою лівою притокою Дунаю є:
А Прут;
Б Тиса;
В Сірет;
Г Сучава.
95. Найбільшим витоком Тиси є:
А Латориця;
Б Біла Тиса;
В Чорна Тиса;
Г Боржава.
96. Найбільшим за площею серед озер Українських Карпат є:
А Гірське око;
Б Синевир;
В Бребенескул
Г Марічейка.
97. До завального типу озер *не* належить:
А Гірське око;
Б Мертве у Бескидах;
В Лебедине
Г Синевир.
98. Найвисокогірнішим серед озер Українських Карпат є:
А Ворочівське;
Б Несамовите;
В Бребенескул
Г Марічейка.
99. Серед озер льодовикового походження до підтипу карових *не* належить:
А Герашаска;
Б Несамовите;
В Бребенескул
Г Марічейка.
100. До вулканічного типу озер Карпат належить:
А Липовецьке;
Б Солоне;
В Апшинецьке
Г Ворожеска.
101. Особливо селенебезпечним є басейн річки:
А Сян;

- Б Сірет;
В Луква;
Г Черемош.
102. Найбільше поширені зсуви вздовж верхньої течії річки:
А Стрий;
Б Дністер;
В Сян;
Г Тиса.
103. В основному (на 35%) видовий склад рослинності Українських Карпат представлений видами:
А середньоєвропейських широколистих лісів;
Б високогірної флори;
В степової флори;
Г кримсько-кавказької флори.
104. В Українських Карпатах достатньо чітко виділяються висотні пояси рослинності:
А передгірний дубовий, низькогірний смерековий, середньогірний буковий, субальпійський чагарниково-лучний, альпійський;
Б передгірний смерековий, низькогірний буковий, середньогірний дубовий, субальпійський чагарниково-лучний, альпійський;
В передгірний дубовий, низькогірний буковий, середньогірний смерековий, субальпійський чагарниково-лучний, альпійський;
Г передгірний буковий, низькогірний дубовий, середньогірний смерековий, субальпійський чагарниково-лучний, альпійський.
105. У передгірному поясі, який піднімається до 400–600, ростуть мішані ліси, що складаються в основному з:
А бука і ялини;
Б ялини і ялиці;
В ялини і модрини;
Г дуба, граба, ялини.
106. Низькогірний пояс на північно-східних схилах піднімається від 500—700, а південно-західних до 1350—1450 м. У ньому домінують:
А чисті смерекові ліси;
Б високостовбурні букові, смереково-букові, грабово-букові і дубово-букові ліси;
В труднопрохідні зарості гірської сосни – жерепу та ялівцю;
Г смерекові рідколісся і криволісся.
107. Вершини Полонинсько-Чорногірських Карпат, Рахівсько-Чивчинських гір з висотами 1800—2000 м вкриті:
А чистими смерековими лісами;
Б труднопрохідними заростями гірської сосни – жерепу та ялівцю;
В низькотрав'ям утвореним біловусо-щучниковими, осоково-ситниковими угрупованнями;
Г смерековим рідколіссям та криволіссям.
108. Бурі гірсько-лісові ґрунти панують в Карпатах на висотах:
А вище 1600 м;
Б вище 1200–1400 м;
В до 600 м;
Г до 400 м.
109. Національних природних парків в межах усіх фізико-географічних областей Українських Карпат сформовано на сьогодні:
А 1;
Б 5;
В 8;
Г 11.
110. Від Подільської височини Передкарпаття відділяється річковими долинами:
А Черемошу та Прута;
Б Дністра та Прута;

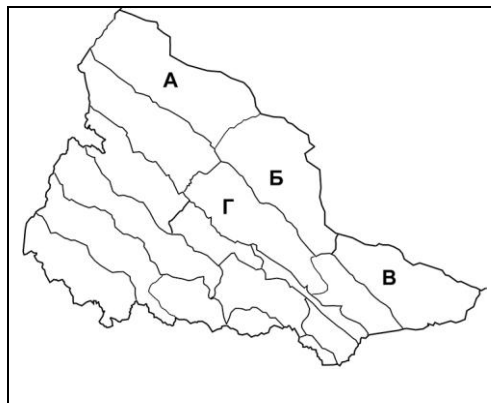
- В Дністра та Сірету;
Г Прута та Сірету.
111. Найвищий хребет піднімається окремими вершинами вище 1800 м у природно-географічній області Карпат:
А Передкарпатській височинній;
Б Вододільно-Верховинській;
В Зовнішньофлішевій;
Г Закарпатського низькогір'я.
112. Найбільш піднятою частиною Зовнішньофлішевих Карпат є:
А Східні Бескиди;
Б Скибові Горгани;
В Привододільні Горгани;
Г Покутсько-Буковинські Карпати.
113. Геолого-геоморфологічна будова пов'язана, головним чином, з вгнутою Центральною синклінальною тектонічною зоною в природно-географічній області Карпат:
А Передкарпатській височинній;
Б Вододільно-Верховинській;
В Зовнішньофлішевій;
Г Полонинсько-Чорногірській.
114. У рельєфі переважають низькогірні й середньогірні хребти з м'якими обрисами з абсолютними висотами 800–1200 м у природно-географічній підобласті Карпат:
А Привододільні Горгани;
Б Бистрице-Селятинського низькогір'я;
В Скибових Горгани;
Г Свидовецько-Чорногірській.
115. У сучасному рельєфі важливу роль відіграють полонинські поверхні вирівнювання, структурно-денудаційні форми, давньольодовикові (кари, цирки), глибокі річкові долини в природно-географічній області Карпат:
А Передкарпатській височинній;
Б Зовнішньофлішевій;
В Вододільно-Верховинській;
Г Полонинсько-Чорногірській.
116. Поширені давньольодовикові форми рельєфу (цирки, моренні вали). Стрімкі схили гір глибоко (400–500 м) розчленовані річковими долинами верхів'їв рік Тиса, Чорний і Білий Черемош в природно-географічній області Карпат:
А Закарпатського низькогір'я;
Б Зовнішньофлішевій;
В Вододільно-Верховинській;
Г Мармароського кристалічного масиву.
117. Березне-Липчанська міжгірна улоговина розташована в природно-географічній області Карпат:
А Закарпатського низькогір'я;
Б Зовнішньофлішевій;
В Вододільно-Верховинській;
Г Мармароського кристалічного масиву.
118. Із природоохоронних об'єктів державного значення тут знаходяться: Галицький НПП, Княздвірський ботанічний заказник, гідрологічний заказник «Турова дача», ландшафтний заказник «Цецине»:
А Передкарпатській височинній;
Б Вододільно-Верховинській;
В Зовнішньофлішевій;
Г Закарпатського низькогір'я.
119. Масив Чорна Гора Карпатського біосферного заповідника поблизу м. Виногорова розміщений в природно-географічній області Карпат:
А Закарпатського низькогір'я;

- Б Зовнішньофлішевій;
В Вододільно-Верховинській;
Г Мармароського кристалічного масиву.
120. Карпатський національний природний парк (північна частина НПП), національні природні парки «Сколівські Бескиди», «Гуцульщина», Вижницький знаходяться в природно-географічній області Карпат:
А Закарпатського низькогір'я;
Б Зовнішньофлішевій;
В Вододільно-Верховинській;
Г Мармароського кристалічного масиву.
121. У якій природно-географічній області Карпат знаходиться велика частина Карпатського біосферного заповідника (два масиви, включаючи Кузійський)?
А Привододільні Горган;
Б Мармароського кристалічного масиву;
В Скибових Горган;
Г Свидовецько-Чорногірській.
122. У якій природно-географічній області Карпат знаходиться велика частина Карпатського біосферного заповідника (три масиви, включаючи Угольсько-Широколужанський та Свидовецький), Карпатський національний природний парк?
А Передкарпатській височинній;
Б Зовнішньофлішевій;
В Вододільно-Верховинській;
Г Полонинсько-Чорногірській.
123. Єдиний в Україні музей екології гір та історії природокористування в Українських Карпатах розміщений в природно-географічній області Карпат:
А Закарпатського низькогір'я;
Б Зовнішньофлішевій;
В Вододільно-Верховинській;
Г Мармароського кристалічного масиву.
125. Єдиний в Україні музей екології гір та історії природокористування в Українських Карпатах розміщений в природно-географічній області Карпат:
А Закарпатського низькогір'я;
Б Зовнішньофлішевій;
В Вододільно-Верховинській;
Г Мармароського кристалічного масиву.
126. НПП Верховинський та Черемоський охоплюють значну частину території у природно-географічній підобласті Карпат:
А Привододільні Горган;
Б Бистрице-Селятинського низькогір'я;
В Чивчинській;
Г Рахівських гір.
127. У межах природно-географічної області розміщені Долина нарцисів Карпатського біосферного заповідника, НПП “Зачарований край”:
А Закарпатського низькогір'я;
Б Зовнішньофлішевій;
В Вододільно-Верховинській;
Г Мармароського кристалічного масиву.
128. У межах якого НПП розміщено заповідне болото Глуханя поблизу с. Негровець?
А Синевир;
Б “Зачарований край”;
В Верховинський;
Г Черемоський.
129. Який НПП охоплює частини території Запрутських Горган та Покутських Карпат?
А Верховинський;

- Б “Зачарований край”;
В Гуцульщина;
Г Черемоський.
130. У межах якого НПП найвищою є вершина Грегит (1471 м)?
А «Гуцульщина»;
Б “Зачарований край”;
В Верховинській;
Г Черемоський.
131. У межах якого природо-заповідного об’єкта охороняється передусім реліктова сосна кедрова європейська?
А НПП Синевир;
Б заповідника “Торгани”;
В Верховинського НПП;
Г Черемоського НПП.
132. У межах якого природо-заповідного об’єкта знаходиться Молочнобратацький карстовий масив, хребет Чорний Діл?
А НПП «Синевир»;
Б заповідника “Торгани”;
В Верховинського НПП;
Г Черемоського НПП.
133. У межах якого природо-заповідного об’єкта знаходяться найглибша карстова печера, карстовий міст?
А НПП «Синевир»;
Б Карпатського біосферного заповідника”;
В Верховинського НПП;
Г Карпатського НПП.
134. У межах якого природо-заповідного об’єкта знаходяться найбільші ділянки букових та буково-ялицевих пралісів?
А НПП Синевир;
Б Карпатського біосферного заповідника”;
В Верховинського НПП;
Г Ужанського НПП.
135. У межах якого природо-заповідного об’єкта знаходяться Буковинські водоспади?
А НПП «Сколівські Бескиди»;
Б НПП “Синьогора”;
В Верховинського НПП;
Г Вишнецького НПП.
136. У межах якого НПП знаходиться заповідне болото «Чорне багно»?
А «Гуцульщина»;
Б “Зачарований край”;
В Верховинській;
Г Черемоський.
137. Єдиний в Українських Карпатах державний природний заповідник знаходиться у природно-географічній підобласті Карпат:
А Привододільні Горгани;
Б Бистрице-Селятинського низькогір’я;
В Скибових Горгани;
Г Свидовецько-Чорногірській.
138. У якій природно-географічній області Карпат знаходиться частина Карпатського біосферного заповідника, національні природні парки «Синевир» та Ужанський?
А Передкарпатській височинній;
Б Вододільно-Верховинській;
В Зовнішньофлішевій;
Г Полонинсько-Чорногірській.

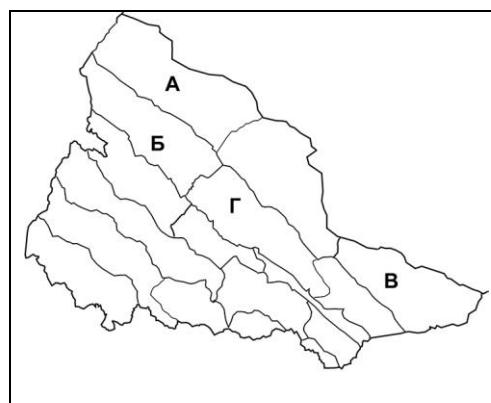
139. Вкажіть якою буквою позначено на картосхемі Прибескидського Передкарпаття:

- А
- Б
- В
- Г



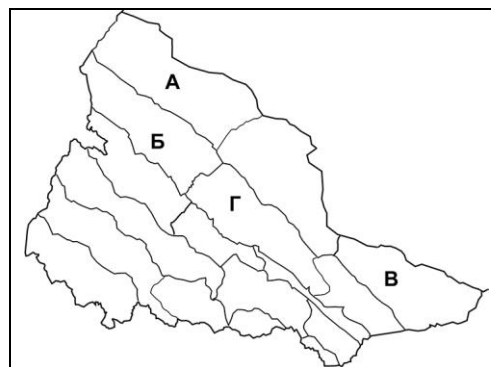
140. Вкажіть якою буквою позначено на картосхемі Покутсько-Буковинське Передкарпаття:

- А
- Б
- В
- Г



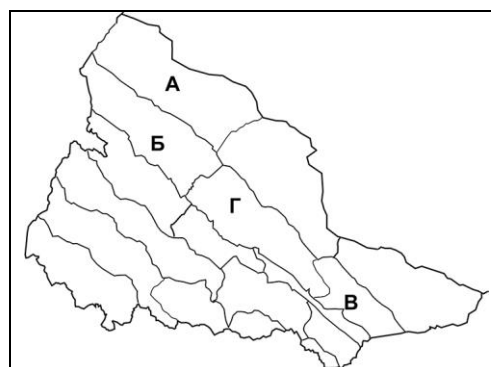
141. Вкажіть якою буквою позначено на картосхемі Українські Східні Beskidi:

- А
- Б
- В
- Г



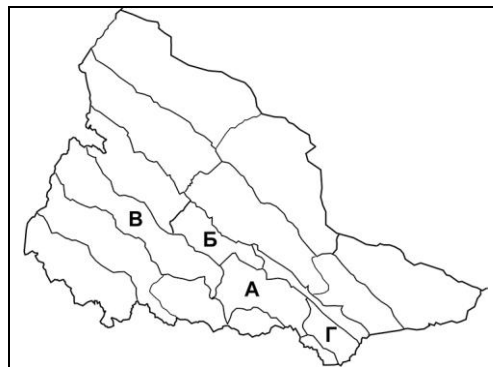
142. Вкажіть якою буквою позначено на картосхемі Скибові Горгани:

- А
- Б
- В
- Г



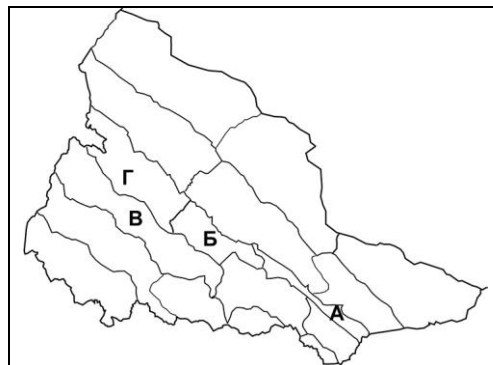
143. Вкажіть якою буквою позначено на картосхемі Свидовецько-Чорногірські Карпати:

- А
- Б
- В
- Г



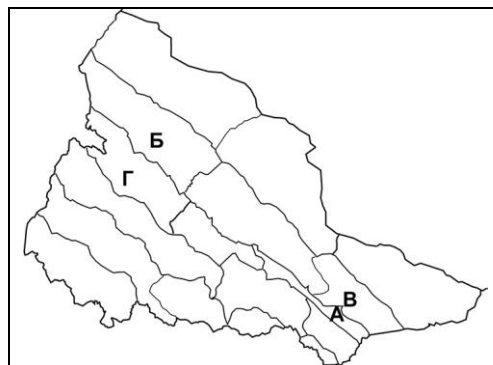
144. Вкажіть якою буквою позначено на картосхемі Бистрице-Селятинське низькогір'я:

- А
- Б
- В
- Г



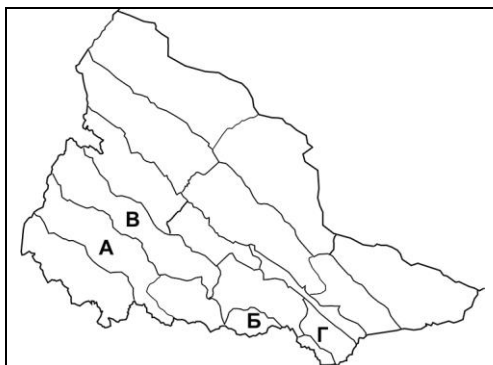
145. Вкажіть якою буквою позначено на картосхемі Сянсько-Ріцька верховина:

- А
- Б
- В
- Г



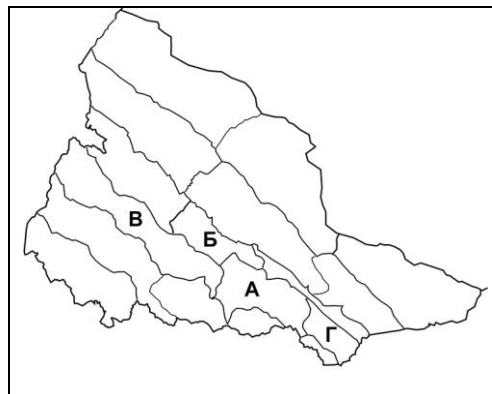
146. Вкажіть якою буквою позначено на картосхемі Гринявсько-Яловичорські Карпати:

- А
- Б
- В
- Г



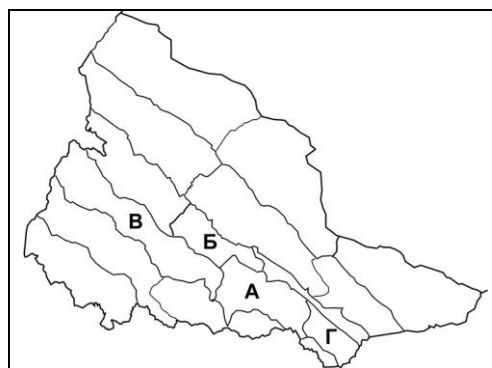
147. Вкажіть якою буквою позначено на картосхемі Полонинське пасмо:

- А
- Б
- В
- Г



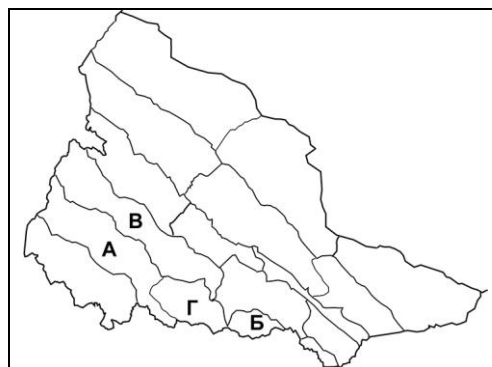
148. Вкажіть якою буквою позначено на картосхемі Привододільні Горгани:

- А
- Б
- В
- Г



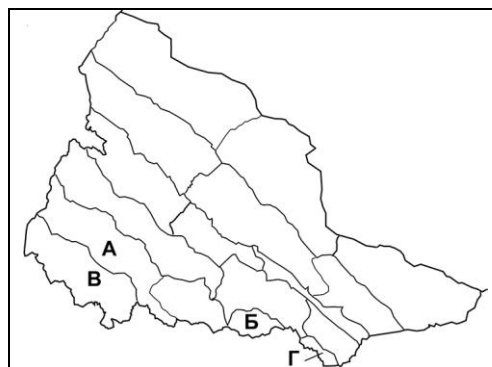
149. Вкажіть якою буквою позначено на картосхемі Солотвинське низькогір'я:

- А
- Б
- В
- Г



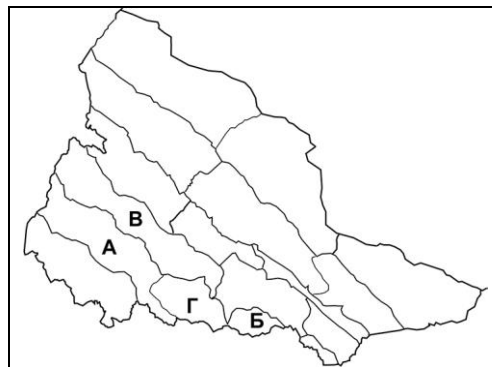
150. Вкажіть якою буквою позначено на картосхемі Чивчинські гори:

- А
- Б
- В
- Г



151. Вкажіть якою буквою позначено на картосхемі Вулканічне низькогір'я:

- А
- Б
- В
- Г



152. Вкажіть якою буквою позначено на картосхемі Рахівські гори:

- А
- Б
- В
- Г

